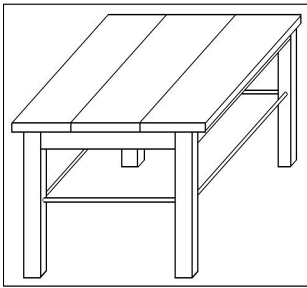
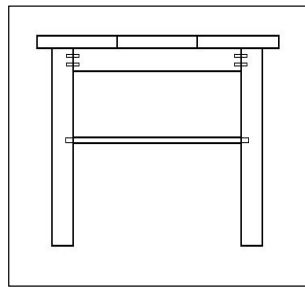


Name und Klasse: \_\_\_\_\_

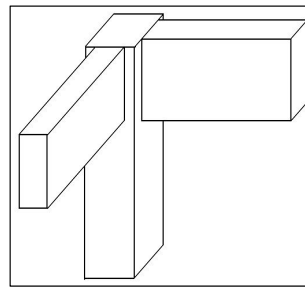
Datum: \_\_\_\_\_



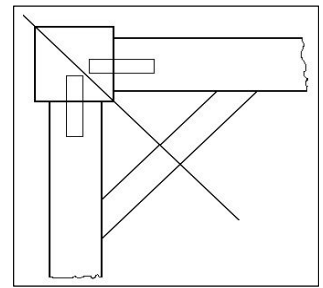
1



2



3



4

**Aufgabe:** zeichne die oben aufgeführten Holzverbindungen in ca. 2- bis 3facher Vergrößerung.  
(Arbeitsmaterial: allgem. Zeichenmaterial zzgl. Geodreieck)

